


L'électricité : évaluation

1 - Coche la réponse exacte :

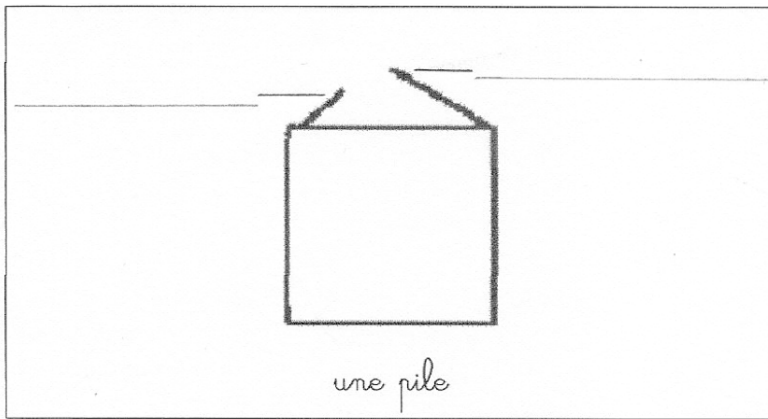
Les documents ① et ② sont :

- des dessins
- des cartes
- des schémas
- des frises historiques

Document ①




Document ②



2 - Complète les documents ① et ②

3 - Dessine un schéma dans lequel l'ampoule s'allume



4 - Complète le texte

Pour que l'ampoule s'allume, il faut que
de touche de la pile et
que touche

5 - Répond aux questions

- Qu'est-ce qu'un isolant ?

→ Un isolant est une matière qui

.....

Donne quelques exemples :

- Qu'est-ce qu'un conducteur ?

→

.....

Donne quelques exemples :

✂

Étiquettes pouvant être utilisées pour la réalisation de l'exercice n°4

la petite lame

le plot

l'ampoule

la grande lame

le culot